

.....

.....

.....

.....

.....

.....

.....

.....

.....

.....

.....

7 Che cosa significa " leccarsi i baffi" ?

- A) succhiarsi le labbra
- B) leccare i resti del cibo o della bevanda rimasti sul labbro superiore
- C) leccare i peli che crescono sul labbro superiore
- D) farsi crescere i baffi

8 Che cosa vuol dire " cibi liofilizzati" ?

- A) cibi surgelati
- B) cibi in polvere
- C) cibi fritti
- D) cibi cotti al forno

9 L'infinito di prodotte è :

- A) producete
- B) procedere
- C) produrre
- D) procacciare

10 La parola " appetibili" è un sinonimo di :

- A) appezzamento
- B) appesantire
- C) appetito
- D) appetitoso

matematica 5° intermedia

Nome: _____

Cognome: _____

Classe: _____

Tutti i campi sono obbligatori

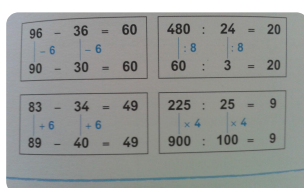
1. INDICA SE LE SEGUENTI EQUIVALENZE SONO ESATTE OPPURE NO

150s = 2 min e mezzo

48h = 2d

180 min = 3 h

mezz'ora = 15 min



2. QUALE PROPRIETA' E' STATA APPLICATA?

A COMMUTATIVA

B ASSOCIATIVA

C DISTRIBUTIVA

D INVARIANTIVA

3. QUAL E' IL NUMERO CHE CORRISPONDE A 30/100?

A 30

B 3000

C 0.3

D 0.03

4. INDICA SE LA FRASE CHE DEFINISCE OGNI FRAZIONE E' ESATTA OPPURE NO

6/3 è UNA FRAZIONE APPARENTE

9/8 è UNA FRAZIONE IMPROPRIA

3/7 è UNA FRAZIONE PROPRIA

8/5 è UNA FRAZIONE APPARENTE

5. PARTI DAL NUMERO 462,75. ARROTONDALO ALLE UNITA'. QUALE NUMERO OTTIENI?

A 462,8

B 463

C 462

D 462.7

6. QUALE DI QUESTE OPERAZIONI AVRA' COME RISULTATO UN NUMERO MAGGIORE DI 20?

A $20 \times 0,5$

B $20 : 0,5$

C $19 + 0,5$

D $20 - 0,5$

7. INDICA SE LE SEGUENTI EQUIVALENZE SONO ESATTE OPPURE NO

40m = 0,4 km

2,65 km = 2650 m

7 m = 700 cm

95 cm = 9,5 mm

8. INDICA SE CIO' CHE DICE OGNI FRASE E' VERO O FALSO

La tara è tutto il peso lordo

Se dal peso lordo tolgo la tara resta il peso netto

Se dal peso lordo tolgo il peso netto resta la tara

La carta che avvolge la tua merendina è il peso netto

9. INDICA SE LE SEGUENTI MISURE SONO SCRITTE IN MODO CORRETTO OPPURE NO

8,4 Mg = 8400 kg

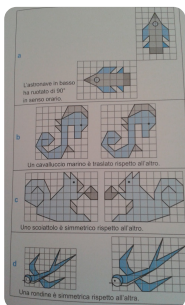
3 Kg = 3000 g

2,50 hg = 250g

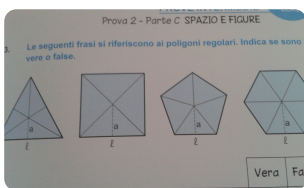
650 g = 65 hg

10. LE FORMULE SEGUENTI SI RIFERISCONO AI POLIGONI REGOLARI. INDICA QUELLA SBAGLIATA

- A perimetro (p) = l x n.lati B apotema (a) = l x n.fisso C area (A) = p x a :2
 D area (A) = p x a

**11. INDICA SE CIO' CHE INDICA OGNI FRASE E' VERO OPPURE FALSO**

- V F a V F b V F c V F d

**12. LE SEGUENTI FRASI SI RIFERISCONO AI POLIGONI REGOLARI. INDICA SE SONO VERE O FALSE**

- V F UN POLIGONO REGOLARE HA TUTTI I LATI E GLI ANGOLI UGUALI
 V F L'APOTEMA E' IL SEGMENTO PERPENDICOLARE CHE UNISCE IL CENTRO DI UN POLIGONO REGOLARE CON IL LATO
 V F DIVIDENDO LA MISURA DELL' APOTEMA DI UN POLIGONO REGOLARE PER LA MISURA DEL SUO LATO OTTENGO UN NUMERO FISSO
 V F IL NUMERO FISSO E' UGUALE PER TUTTI I POLIGONI REGOLARI

13. QUAL È IL NUMERO "TRECENTOQUATTROMILIONIOTTANTAQUATTROMILA"

- A 304840000 B 304008400 C 304084000 D 304000840

14. QUALE SEQUENZA E' SCRITTA IN ORDINE DAL MAGGIORE AL MINORE?

- A 9 906340 - 906 340 - 96 340 - 609 340 B 9 906340 - 609 340 - 23 340 - 906 340
 C 9 906340 - 906 340 - 609 340 - 96 340 D 96 340 - 609 340 - 906 340 - 9 906 340

15. QUAL E' IL NUMERO CORRISPONDENTE A "45 DECINE DI MILIONI 2 DECINE DI MIGLIAIA 7 UNITA' SEMPLICI?"

- A 450 020 007 B 45 020 007 C 4 520 007 D 452 007

16. NEL NUMERO 26 345 650 QUAL E' LA CIFRA DELLE DECINE DI MIGLIAIA?

- A 2 B 3 C 4 D 5

17. INDICA QUALE DELLE SEGUENTI CORRISPONDENZE SONO VERE

- V F $7250461 = 7000000 + 200000 + 5000 + 400 + 60 + 1$ V F $40650903 = 40000000 + 600000 + 50000 + 900 + 3$
 V F $300400200 = 300000000 + 4000 + 200$ V F $920006507 = 900000000 + 20000000 + 6000 + 500 + 7$

18. SE TOGLI UNA DECINA DI MIGLIAIA AL NUMERO 4006100 CHE NUMERO OTTIENI?

- A 3996100 B 4006090 C 3096100 D 3906100

19. INDICA SE I SEGUENTI CONFRONTI SONO VERI OPPURE NO

- V F $932500 > 923500$ V F $4200600 > 4200590$ V F $75340500 < 75430500$
 V F $304600800 > 304601799$

PROVA INTERMEDIA V

Nome: _____

Cognome: _____

Classe: _____

1 INDICA QUALE DELLE SEGUENTI ESPRESSIONI E' ERRATA

- A I GOES TO SCHOOL B YOU ARE MY FRIEND C WE IS ITALIAN D I LIKE FRUIT

2 INDICA QUALE ESPRESSIONE E' CORRETTA PER CHIEDERE IL TEMPO ATMOSFERICO

- A WHAT THE WEATHER LIKE TODAY? B WHAT'S THE WEATHER LIKE TODAY?
 C HOW IS THE WEATHER TODAY? D WHAT'S DAY IS TODAY?

3 INDICA LA PAROLA CHE COMPLETA LA FRASE: IUP AT 7 O'CLOCK

- A GETTING B GETS C GET D TO GET

4 SCEGLI LA RISPOSTA CORRETTA PER LA SEGUENTE DOMANDA: "HAS SHE GOT BLUE EYES?"

- A NO SHE DONT B NO SHE ISIN'T C NO,SHE HAVEN'T D NO,SHE HASN'T

5 SCEGLI IL MODO GIUSTO PER COMPLETARE LA FRASE: I.....FROM ITALY.

- A BE B IS C ARE D AM

6 SEGNA L'AGGETTIVO CHE NON STA IN COPPIA

- A BEAUTIFUL-UGLY B SAD-HAPPY C RICH-UGLY D SHORT-TALL
 E BIG-SMALL

7 INDICA QUALE DELLE SEGUENTI ESPRESSIONI E' ERRATA

- A WE ARE ITALIAN B YOU ARE MY FRIEND C I LIKE FRUIT D Risposta 3
 E I GOES TO SCHOOL



8 SEGNA L'ORARIO

- A IT'S A QUARTER PAST EIGHT B IT'S TWO O'CLOCK
 C IT'S TEN O'CLOCK D IT'S HALF PAST THREE

9 SCEGLI IL TERMINE INTRUSO

- A BUTCHER'S B CHEMIST'S C GREENGROCER'S D BAKER'S
 E HALL

10 SEGNA IL TEMPO METERELOGICO ESPRESSO DALL'IMMAGINE



- Ⓐ IT'S RAINING Ⓑ IT'S SUNNY Ⓒ IT'S FOGGY Ⓓ IT'S CLOUDY